

Dodawanie i odejmowanie. Klasa 1

1. Mama piecze babeczki. Upiekła 5 babeczek malinowych i 4 babeczki czekoladowe. Ile babeczek upieczono razem? Otocz pętlą poprawne działanie? Niepoprawne działania skreśl. Oblicz wynik i uzupełnij odpowiedź.



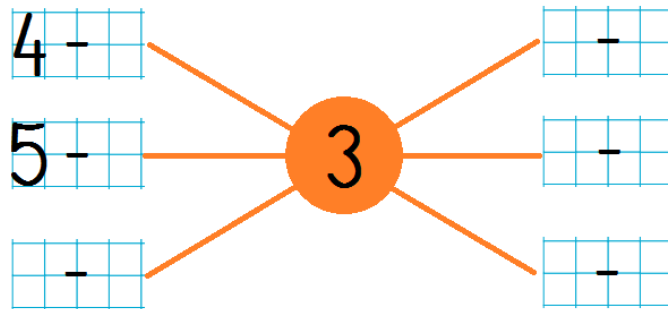
$9 - 5 = \square$

$5 - 4 = \square$

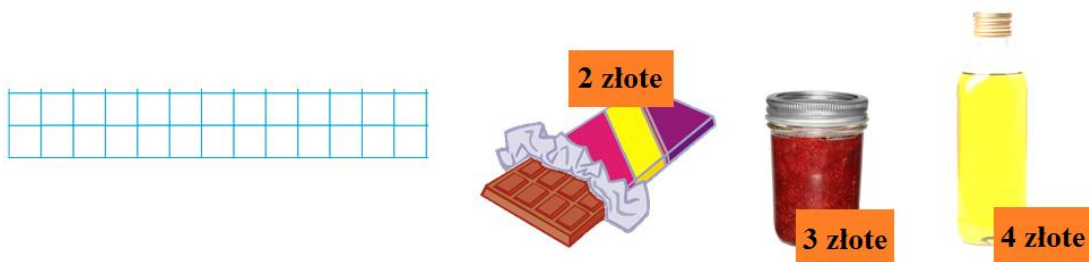
$5 + 4 = \square$

Odpowiedź: Mama upiekła babeczek.

2. Uzupełnij działania tak, żeby ich wynik był równy 3.



3. Babcia kupiła w sklepie różne produkty. Ile razem zapłaciła za te produkty?









Jakimi monetami babcia mogła zapłacić za zakupy? Narysuj te monety.



4. Dodawaj tyle, ile wskazuje strzałka. Wpisz wyniki w kratki.



5. Oceń swoją pracę! Pokoloruj gwiazdkę w odpowiednim miejscu w tabelce

	Umiem!	Muszę jeszcze popracować!
Odróżniam od siebie działania na dodawanie i odejmowanie.		
Rozwiązuję działania na dodawanie i odejmowanie i wpisuję odpowiedni wynik		
Uważnie odczytuję treść zadania tekstowego i wyszukuję w nim potrzebne dane.		
Tworzę odpowiednie działanie, obliczam je i formułuję odpowiedź.	